



**Wikingermuseum
Haithabu**

Landesmuseen SH

Opdagelser

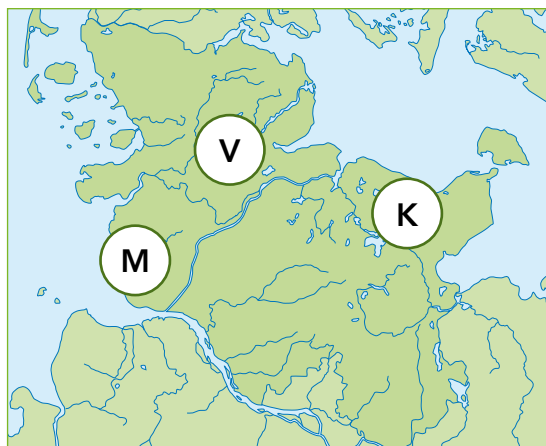
i museet

**Welterbe
Haithabu-Danewerk**

Rum 1 – »PÅ VEJ TIL HEDEBY«

Hvor ligger Hedeby?

Sæt det rigtige løsningsbogstav ind i felt nummer 1!

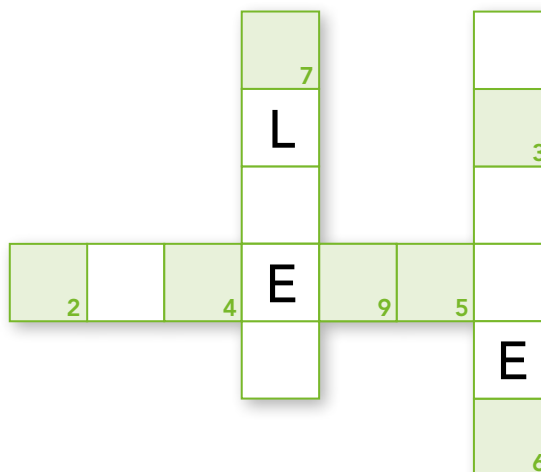

 1

 2

 3

Hvilke søveje skulle købmændene bruge for at transportere deres varer sikkert og hurtigt fra Østersøen til Vesterhavet?

Løs kryds og tværsen og sæt det rigtige løsningsbogstav ind i de nummererede felter til højre!


 4

 5

 6

Hedeby og Danevirke er verdensarv!



Organisation
der Vereinten Nationen
für Bildung, Wissenschaft
und Kultur



• Archäologischer Grenzkomplex
• Haithabu und Danewerk
• Welterbe seit 2018

Det er UNESCOs logo. UNESCO fører en liste over verdensarvssteder. Det er bygninger og steder, men også naturområder, som er unikke og vigtige for hele menneskeheden. De skal beskyttes og bevares på en særlig måde.

Hedeby er sammen med godt 1100 andre steder rundt om i verden på UNESCOs verdensarvsliste siden 2018.

Hvorfor?

To af svarene er rigtige. Skriv løsningsbogstaverne i rubrik 8 og 10.

Fordi Hedeby...

... var et berømt ridderslot.

B

... er et af de vigtigste forskningssteder for vikingetiden.

A

... er et særligt smukt sted.

G

... var et af de vigtigste handelscentre i Nordeuropa.

V

... er en gammel sørøverrede.

D

 7

 8

 9

 10



**Wikingermuseet
Haithabu**

Landesmuseum SH

Opdagelser

i museet

**Welterbe
Haithabu-Danewerk**

Rum 2 – »HVERDAG I HEDEBY«

Hvad hedder de håndværkere, der fremstillede følgende varer:

Sæt de rigtige løsningsbogstaver ind i felterne nummer 2–9!

Varer



Håndværker

Våben-

				4
--	--	--	--	---



		5		6
--	--	---	--	---

-mager



		M				9
--	--	---	--	--	--	---



				S		8
--	--	--	--	---	--	---

	1
--	---

R	2
---	---

Æ	3
---	---

	4
--	---

	5
--	---

	6
--	---

J	7
---	---

	8
--	---

	9
--	---

Find montren med drengen og legetøjet!

Her kan man se nogle af de ting, som vikingebørnene legede med. Blandt andet **en knogle med et mærkeligt hul i midten**. Arkæologerne tror, at børnene trak en snor gennem knoglen, og når de så svingede knoglen i snoren, kom der en speciel og sjov lyd frem.

Hvad kalder man dette legetøj?

Sæt det rigtige løsningsbogstav ind i felt nummer 1!

En brummer?	T
En suser?	D
En snorker?	C



**Wikingermuseet
Haithabu**

Landesmuseen SH

Opdagelser

i museet

**Welterbe
Haithabu-Danewerk**

Rum 3 – »MAGTENS CENTRUM«


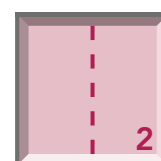

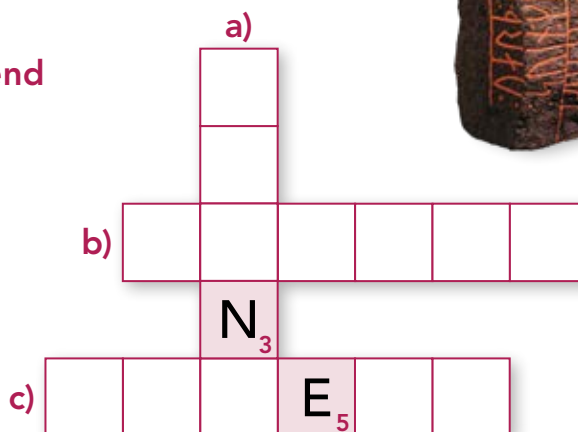
Find denne runesten og svar på følgende spørgsmål:

Sæt løsningsordene ind i kryds og tværsen!

a) Hvad hed den konge, som rejste denne runesten?

b) Hvor tog hans følgesvend Skarthi hen?

c) Hvor døde Skarthi?




Sæt løsningsbogstaverne ind i felterne til højre på siden!

Søg efter modellen med en båd-kammergrav! Hvem blev begravet der?

Sæt løsningsbogstavet ind i felt nummer 1!

En hestetøv med sine kammerater og sit bytte.	A
En konge med sin mundskænk og sin marskal.	O
En kaptajn med sin styrmand og sin skibskok.	P




Denne amulet er et symbol for en hedensk gud. Hvilken gud er det?

Sæt det rigtige løsningsbogstav ind i felt nummer 2!





Odin	MU
Thor	DI
Tyr	OR



Hvad forestiller amuletten?

Sæt det rigtige løsningsbogstav ind i felt nummer 4!

En økse	IA
En hammer	FR
Et anker	SO



I vitrinerne kan du se, om du kan finde flere amuletter.



**Wiking Museum
Haithabu**

Landesmuseen SH

Opdagelser

i museet

**Welterbe
Haithabu-Danewerk**

Rum 4 – »HANDEL, TRANSPORT OG FREMMEDE KONTAKTER«

Fra næsten alle dele af verden, som man kendte den på den tid, kom der varer til Hedeby. På ydersiden af den store glasterning kan du se, hvilke egne og verdenshjørner varerne kom fra.

Fra hvilke egne kom varerne?

Se på kortet og sæt de rigtige bogstaver ind i felterne ud for de rigtige varer og ind i felterne til højre.



Jernbarrer med øskener
Løsningsbogstav felt 1

Sværd
Løsningsbogstav felt 2

Glasmosaiksten
Løsningsbogstav felt 3

Halskæde af rød karneol og gennemsigtig bjergkrystal
Løsningsbogstav felt 4

Der var forskellige muligheder for at betale for varerne.

Hvad kunne man ikke betale med?

Sæt det rigtige løsningsbogstav ind i felt nummer 5!

Mønter **S**

Kreditkort **E**

Brudsølv **V**

Hvad havde købmanden brug for, når der blev betalt med brudsølv?

Sæt det rigtige løsningsbogstav ind i felt nummer 6!

Skålvægt **R**

Lommeregner **U**

Saks **P**



**Wikingermuseet
Haithabu**
Landesmuseen SH

Opdagelser

i museet

Welterbe
Haithabu-Danewerk

Rum 5 – »HEDEBYS HAVN«

Gå først til venstre ad landgangsbroen. Broer som den her blev brugt til at fortøjre skibene, og samtidig fungerede de som Hedeby's markedsplads.

Hvilken af de følgende scener kan du ikke få øje på her?

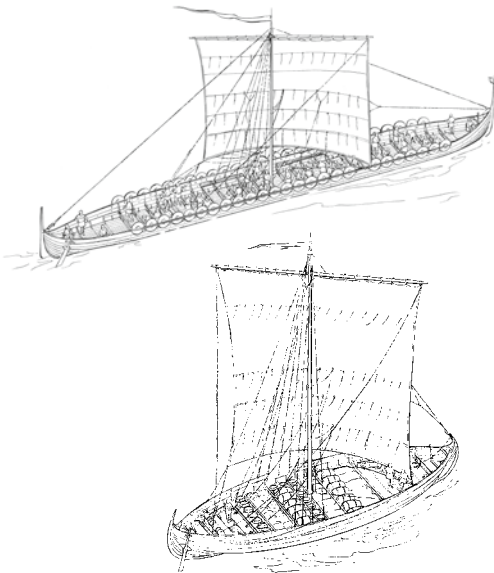
Sæt det rigtige løsningsbogstav ind i felt nummer 1!

En slave, der bliver solgt	M
En fisk, der bliver rensset	B
Et barn, der fisker	D

 1

Hvilke tre typer skibe kan du finde?

Sæt de rigtige løsningsbogstaver ind de nummererede felter i højre side!



K -skib

N **D** -

S

Den tredje skibstype, vi leder efter, ligger ved siden af det store skibsvrag!

Hvor langt er det store skib?

Hvor mange skridt skal du bruge på at gå fra bagenden af skibet (ved det store vindue) til stævnen med dragehovedet?

Sæt det rigtige løsningsbogstav ind i felt nummer 8!

Ca. 55 skridt	M
Ca. 30 skridt	I
Ca. 12 skridt	E

 7

 8

Hvor er denne tøjnlå blevet fundet?

Kan du finde den?

Sæt det rigtige løsningsbogstav ind i felt nummer 9!



I et hus	O
I havnebassinet	B
I en grav	U

 9